



به نام خدا

آموزگار: غیائی

ارزشیابی پایان سال ریاضی

نام:

۱- صحیح یا غلط بودن جملات را مشخص کنید .

\* عدد ۷، عددی فرد است .

\* تقریب عدد ۳۹، عدد ۳۰ است .

\* در ساعت، ۱۵ دقیقه را به صورت ربع هم می خوانیم .

\* تعداد گوشه های یک ۵۰ ضلعی، ۴۹ تا است .

۲- مقایسه کن و علامت  $>$   $=$   $<$  بگذار .

$$718 \quad \square \quad 728$$

$$300 + 20 + 9 \quad \square \quad 329$$

$$2 \text{ سانتی متر و } 8 \text{ میلی متر} \quad \square \quad 28 \text{ سانتی متر}$$

$$20 \text{ میلی متر} \quad \square \quad 20 \text{ سانتی متر}$$

۳- جمع و تفریق های زیر را به روش فرآیندی حل کن .

۳۶۴

۸۴۹

+ ۱۲۳

- ۲۳۶

۴- حاصل جمع و تفریق های زیر را از روش تکنیکی بدست بیاور .

۴۹۶

۸۰۰

+ ۱۸۵

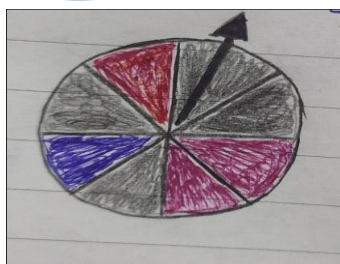
- ۱۲۶

۵- در یک کوچه روی هم ۵ تا دوچرخه و سه چرخه وجود دارد . آنها روی هم ۱۲ چرخ دارند.  
در این کوچه چند دوچرخه و چند سه چرخه وجود دارد؟

۶- با کارت های ۳ و ۵ و ۸ چهار عدد دو رقمی و چهار عدد سه رقمی بسازید و جدول را کامل کنید .

سه رقمی			دو رقمی		
زوج یا فرد	حروف	عدد	زوج یا فرد	حروف	عدد

۷- صفحه چرخنده به شکل زیر است ، جمله ها را کامل کنید .



\* ..... قسمت از ..... قسمت شکل سیاه است

\* ..... قسمت از ..... قسمت شکل قرمز است

\* احتمال ایستادن عقربه روی کدام رنگ بیشتر است؟ چرا؟

۸- برای جمله ی زیر شکل بکشید.

" ۳ تا ۵ تایی می شود ..... تا "

۹- زمان ها را بنویس .



ساعت ..... : ..... :

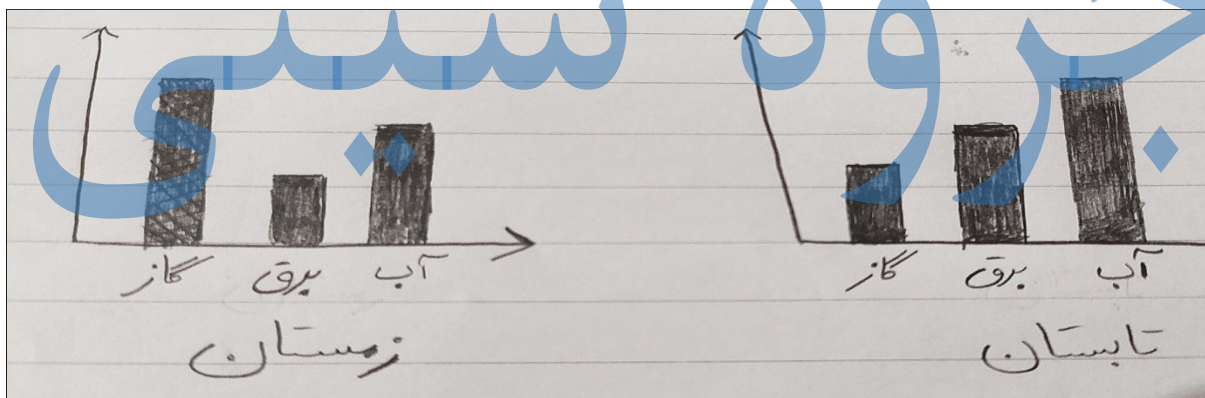


ساعت ۲۰ دقیقه مانده به ۵

یا ساعت ..... مانده به .....

۱۰- نمودار مصرف آب و برق و گاز خانه سینا در دو فصل سال به شکل زیر است ، با توجه به

نمودارها به سوالات زیر پاسخ دهید .



\* در خانه سینا مصرف گاز در کدام فصل سال بیشتر است؟

\* در کدام فصل آب بیشتری مصرف شده است ؟

\* در فصل تابستان کدام انرژی کمتر مصرف شده؟

۱-

\* ص

\* غ

\* ص

\* غ

۲-

$$۲۰ \text{ میلی متر} > ۲۰ \text{ سانتی متر} \quad ۷۱۸ < ۷۲۸ \quad ۳۲۹ = ۳۲۹$$

$$۲۸ \text{ سانتی متر} = ۲ \text{ سانتی متر و } ۸ \text{ میلی متر}$$

حرفه سستی

$$\begin{array}{r} ۳۶۴ \\ + ۱۲۳ \\ \hline \end{array}$$

۴۸۷

$$\begin{array}{r} ۸۴۹ \\ - ۲۳۶ \\ \hline \end{array}$$

۶۱۳

۴-

$$\begin{array}{r} ۴۹۶ \\ + ۱۸۵ \\ \hline \end{array}$$

۶۸۱

$$\begin{array}{r} ۸۰۰ \\ - ۱۲۶ \\ \hline \end{array}$$

۶۷۴

۵- تا سه چرخه و ۳ تا دو چرخه وجود دارد.

۶-

سه رقمی			دو رقمی		
زوج یا فرد	حروف	عدد	زوج یا فرد	حروف	عدد
زوج	سیصد و پنجاه و هشت	۳۵۸	فرد	سی و پنج	۳۵
فرد	سیصد و هشتاد و پنج	۳۸۵	فرد	پنجاه و سه	۵۳
فرد	پانصد و هشتاد و سه	۵۸۳	زوج	سی و هشت	۳۸
زوج	پانصد و سی و هشت	۵۳۸	فرد	هشتاد و سه	۸۳

۷-


\* ..... ۴ ..... قسمت از ..... ۸ ..... قسمت شکل سیاه است  
\* ..... ۳ ..... قسمت از ..... ۸ ..... قسمت شکل قرمز است  
\* سیاه - زیرا تعدادش بیشتر است

۸-

" ۳ تا ۵ تایی می شود .... ۱۵ .... تا "



-۹



ساعت .....۴۵..... : .....۱.....



ساعت ۲۰ دقیقه مانده به ۵

یا ساعت .....یک ربع..... مانده به .....۲.....

---

-۱۰

جزوه سیپی

\* زمستان  
\* تابستان  
\* گاز